

1. ข้อใด แปลความหมายถูกต้อง

- ก. กระจาดสา = กระจาดที่ทำจากเปลือกต้นกระจาด
- ข. โกลี = ชื่อมาตราวัดเท่ากับ 100,000,000,000
- ค. กระจาดปาปิรุส = กระจาดชนิดแรกของโลกทำจากต้นปิรุส
- ง. คีลาจาริก = แผ่นโลหะที่สลักให้เป็นรอยลึกเป็นตัวอักษร

2. ข้อใด บอกความหมายไม่ถูกต้อง

- ก. ข้าวกล้อง = ข้าวที่สีเอาเปลือกออกแต่ยังมีจมูกข้าวและเยื่อหุ้มเมล็ดข้าวอยู่
- ข. ควายเหล็ก = เครื่องจักรที่ใช้ไถนาแทนควาย มีคนขับเวลาไถ
- ค. ควายบอย = คนเลี้ยงวัวเรียกอีกชื่อว่า ควายบอย
- ง. ไถแปร = ไถลู่ไปในครั้งแรก

3. คำศัพท์ข้อใด บอกความหมายไม่ถูกต้อง

- ก. เกษียณอายุ หมายถึง ครบกำหนดอายุรับราชการ
- ข. ร่วมสมัย หมายถึง สมัยปัจจุบัน
- ค. อุบัติเหตุ หมายถึง เหตุที่เกิดขึ้นโดยไม่คาดฝัน
- ง. ค้างคาใจ หมายถึง คิดทบทวน, นึกตรอง

4. คำศัพท์ในข้อใด บอกความหมายถูกต้อง

- ก. กทลี หมายถึง นางตานี
- ข. ลูกใจ หมายถึง ครุ่นคิด
- ค. สำทับ หมายถึง ย้ำ, กำชับ
- ง. จินตนาการ หมายถึง การเขียนบรรยาย

5. ข้อใด แปลความหมายไม่ถูกต้อง

- ก. ขับขาน = ร้องเป็นทำนอง
- ข. รื่นเริง = งานเฉลิมฉลอง
- ค. คลาคล้า = ไปหรือมาเป็นจำนวนมาก
- ง. ชุลมุน = อาการที่เป็นไปอย่างสับสนวุ่นวายไม่เป็นระเบียบ

6. คำราชาศัพท์ข้อใด อยู่ในหมวดร่างกายทุกคำ

- ก. พระปราง พระเพลา ข. พระศอ พระฉาย
- ค. พระอุระ พระเขนย ง. พระชีวหา พระกลด

7. ข้อใด แปลความหมายคำราชาศัพท์ที่ถูกต้อง

- ก. พระโลมา = เส้นเอ็น
- ข. พระนาภี = นิ้วชี้
- ค. พระเกศา = หัว
- ง. พระมัสสุ = หนอง

8. คำราชาศัพท์ข้อใด หมายถึง "คาง"

- ก. พระอังสา ข. พระศอ
- ค. พระนลาฏ ง. พระหนุ

9. ข้อใด แปลความหมายไม่ถูกต้อง

- ก. พระทนต์ = ฟัน ข. พระปราง = แก้ม
- ค. พระกรรม = คอ ง. พระขนง = คิ้ว

10. ข้อใด ให้ความหมายคำราชาศัพท์ถูกต้อง

- ก. พระโสณี = ตะโพก
- ข. พระขนอง = เอว
- ค. พระชงฆ์ = เข่า
- ง. พระมังสา = ผิวกาย

11. พระสงฆ์ _____ อยู่ในพระอุโบสถ

- ก. จำวัด ข. อาพาธ
- ค. ทำวัตร ง. นันเพล

12. "อาบน้ำ" ใช้คำราชาศัพท์สำหรับพระภิกษุสงฆ์ว่าอย่างไร

- ก. สรงน้ำ ข. ไปถาน
- ค. ทำวัตร ง. ประเคน

13. ข้อใด เป็นคำสุภาพทุกคำ

- ก. พักเหลือง ดอกมะลิ
- ข. ต้นอเนกคุณ ดอกขี้เหล็ก
- ค. ต้นปาริชาติ ดอกมณฑาขาว
- ง. ต้นพุงคอ ต้นเหียงอกปลาหม้อ

14. ขนมหทราย หมายถึงขนมอะไร

- ก. ขนมทองฟู ข. ขนมตาล
- ค. ขนมจีน ง. ขนมขี้หนู

15. คำว่า "ปลาสด" หมายถึงข้อใด

- ก. ปลาฝั่งชะ ข. ปลายาว
- ค. ปลาหาง ง. ปลาใบไม้

16. ข้อใด อ่านไม่ถูกต้อง

- ก. สังขยา อ่านว่า สัง - ขะ - หยา
ข. ปโกฎิ อ่านว่า ปะ - โกด
ค. พีระมิด อ่านว่า พี - รา - มิด
ง. โกฎิ อ่านว่า โกด

17. คำในข้อใด อ่านออกเสียงไม่ถูกต้อง

- ก. ภูมิปัญญา อ่านว่า พุม - ปัน - ยา
ข. พระราชดำรัส อ่านว่า พระ - ราช - ดำ - หารัด
ค. พฤติกรรม อ่านว่า พรัด - ดิ - กำ
ง. อุบัติเหตุ อ่านว่า อุ - บัด - ดิ - เหตุ

18. คำว่า สัน - นิต - ถาน เขียนอย่างไร

- ก. สันนิษฐาน ข. สันนิษฐาน
ค. สันนิษฐาน ง. สันนิษถาน

19. ตัวการ์ตูนที่หายไป ข้อใดถูกต้อง

- ชื่อสัตว์ , อเล็กทอนิก , พระลัก
ก. ย้ , น้ , มมณ้ ข. วั , ต้ , มณ้
ค. ย้ , ค้ , มณ้ ง. ย้ , ล้ , มมณ้

20. ข้อใด ใช้ตัวการ์ตูนถูกต้อง

- ก. เปรมปรีดิ์ ข. ยานัตถุ้
ค. ศักดิ์สิทธิ์ ง. เผ่าพันธ์

21. ข้อใด ใช้ตัวการ์ตูนถูกต้อง

- ก. ยานยนตร์ ข. สัตถุ์ลักษณ้
ค. น้ำมนตร์ ง. อาถรรย์

22. ข้อใด มีคำควบกล้ำไม่แท้มากที่สุด

- ก. นกอินทรีมาสร้างรังที่ต้นนนทรี
ข. ลุงพร้อมปลูกต้นพุทราใกล้ต้นไทร
ค. ตาน้อยศรัทธาพระที่จังหวัดละเซียงเทธา
ง. คุณเสริมทำงานหาทรัพย์จนร่างกายทรุดโทรม

23. คำในข้อใด เป็นคำควบกล้ำ

- ก. ตลาด ข. ผลิต
ค. แผล ง. อร่อย

24. ข้อใด เป็นคำควบกล้ำแท้ทั้งหมด

- ก. ครับ แทรก ข. ขว้าง เสรีจ
ค. ขลุ่ย เปล ง. สร้อย ผลอย

25. คุณยิงปลาพวกนี้ทำไม เครื่องหมายวรรคตอนที่ควรมีคือข้อใด

- ก. สัตถุ์ประกาศ ปรัศนึ
ข. อัญประกาศ ปรัศนึ
ค. สัตถุ์ประกาศ อักเจริย์
ง. อัญประกาศ อักเจริย์

26. ข้อใด ใช้เครื่องหมายวรรคตอนไม่ถูกต้อง

- ก. โอ้โฮ! วันนึ่ แต่งตัวสวยจัง
ข. หนุงหนิงจะไปฝากเงินที่ธนาคารกรุงเทพฯ
ค. ผู้ว่าราชการจังหวัด พูลเกล้าฯ ถวายช่อดอกไม้สมเด็จพระบรมราชินีนาถ
ง. สวนหลังบ้านของมะปรางมีผลไม้มัหลายชนิด เช่น มะม่วง ขนุน มังคุด ฯลฯ

27. ข้อใด ใช้เครื่องหมายวรรคตอนได้ถูกต้อง

- ก. แมมีเงิน 7800 บาท ใช้เครื่องหมาย ,,
ข. โอ้โฮ เสื้อสวยจัง ใช้เครื่องหมาย ?
ค. เดือน ค ค ใช้เครื่องหมาย ,
ง. น้อมเกล้า ใช้เครื่องหมาย ฯ

๖

28. ๔ ๑๑ วัน เดือน ปี แบบไทยต่อไปนี้อ่านตามข้อใด

- ก. วันพุธ เดือนอ้าย ขึ้นหกค่ำ
ข. วันพุธ เดือนอ้าย แรมหกค่ำ
ค. วันพุธ เดือนหนึ่ง ขึ้นหกค่ำ
ง. วันพุธ เดือนหนึ่ง แรมหกค่ำ

๕

29. ๒ ๑๓ อ่านได้ว่าอย่างไร

- ก. วันอังคาร เดือนห้า ขึ้นสามค่ำ
ข. วันพุธ เดือนสาม ขึ้นห้าค่ำ
ค. วันเสาร์ เดือนห้า แรมสามค่ำ
ง. วันจันทร์ เดือนสาม ขึ้นห้าค่ำ

30. "วันเสาร์ เดือนยี่ แรม 12 ค่ำ ปีชวด" เขียนอย่างไร

- ๑๒ ๑๒
ก. ๖ ๑ ๒ ปีชวด ข. ๗ ๑ ๒ ปีชวด
ค. ๖ ๑ ๒ ปีชวด ง. ๗ ๑ ๒ ปีชวด
๑๒ ๑๒

31. คำนามในข้อใด ทำหน้าที่เป็นประธาน

- ก. แมวไล่กัดหนู
- ข. เขาไม่ชอบความมืด
- ค. วัดนี้สร้างมาหลายปีแล้ว
- ง. รถยนต์คันนี้ถูกขโมยมาจากชายแดน

32. ข้อใด เป็นคำวิสามานยนามทั้งสองคำ

- ก. ประเทศไทย แม่น้ำ
- ข. วันสงกรานต์ ม้านิลมังกร
- ค. สุนทรภู่ คุณครู
- ง. อุทยาน สิ่งแวดล้อม

33. คำที่ขีดเส้นใต้ ข้อใดเป็นคำนาม

- ก. ยามว่างเพื่อนๆ ชวนเขาให้ไปเดินเล่น
- ข. เขาเป็นคนพูดจาสุภาพ
- ค. ควายตัวนั้น เขายาว คูน่า กลัว
- ง. เขา และ เธอ เป็น เพื่อน รัก กัน

34. ข้อใด เป็นวิภาคสรรพนามทุกคำ

- ก. ใคร อะไร ที่ไหน ข. ผม ท่าน อาตมา
- ค. ต่าง บ้าง กัน ง. นี่ นั่น โน่น

35. คำว่า “ใคร” ในข้อใด ที่เป็นสรรพนามบอกความไม่

เจาะจง

- ก. ใครๆ ก็ไม่รักผม
- ข. ใคร โทก หก ยกมือขึ้น
- ค. จีบแจง มากับใครนะ
- ง. ฉันไม่อยู่ ไม่รู้ใครโทรฯ มาหา

36. "ป่าไม้เป็นทรัพยากรอันมีค่าของประเทศไทย" จาก

ประโยค ข้อใดเป็นคำประพันธ์สรรพนาม

- ก. อัน ข. เป็น
- ค. ป่าไม้ ง. ประเทศไทย

37. ข้อใด เป็นกลุ่มคำนามหรือนามวลี

- ก. เดินไปเดินมาอย่างกังวล
- ข. นกฝูงใหญ่บนท้องฟ้า
- ค. ชื่นชมธรรมชาติยามเช้า
- ง. กว้างใหญ่ไพศาล

38. ข้อใด เป็นวิเศษณ์วลี

- ก. กวัดแกว่งอาวุธ ข. ชายวัยกลางคน
- ค. สุภาพอ่อนโยน ง. ท่ามกลางผู้ยากไร้

39. "เด็กผู้ชายตัวอ้วนๆ เดินเข้ามา" ข้อใด เป็นส่วนขยายประธาน

- ก. เด็ก ข. ผู้ชายตัวอ้วนๆ
- ค. เข้ามา ง. เดิน

40. "ขวัญชอบอ่านหนังสือการ์ตูน" คำที่ขีดเส้นใต้ทำหน้าที่ใดในประโยค

- ก. ขยายประธาน ข. ขยายกริยา
- ค. ขยายกรรม ง. กรรม

41. ข้อใด เป็นประโยคความเดียว

- ก. นิดและหน่อง ชอบเรียนวิชาภาษาไทย
- ข. เขาร้องเพลงเพราะจนใครๆ ชื่นชอบ
- ค. อากาศร้อนอบอ้าวมาหลายวันแต่ฝนไม่ตกสักที
- ง. แพนด้าน้อยคลานไปมารอบกรง

42. ข้อใด เป็นประโยคความเดียวหรือประโยคสามัญ

- ก. คุณชายไปวัดเมื่อพระเกศาระงัง
- ข. ร้านนี้ขายดีเพราะพ่อค้าพูดจาไพเราะ
- ค. คุณแม่ชอบบ้านทรงไทย
- ง. บ้านทรงไทยที่อยู่ริมน้ำเป็นของฉัน

43. คำราชาศัพท์ข้อใด ไม่ใช่คำราชาศัพท์หมวดร่างกาย

- ก. พระปีตุลา ข. พระจุฑามาศ
- ค. พระนาสิก ง. พระมัสสุ

44. ข้อใด ต่างหมวดกัน

- ก. พระอุณาโลม พระมัจฉิมมา
- ข. พระทาสู พระกัจฉะ
- ค. พระมังสา พระมาลา
- ง. พระรากขวัญ พระมัสสุ

45. สมเด็จพระสังฆราชไม่สบาย คำที่ขีดเส้นใต้ ควรใช้

- ก. ป่วย ข. อาพาธ
- ค. ประชวร ง. เจ็บป่วย

46. “หลังจากกล่าวคำถวายสังฆทานจบ คุณพ่อ

ก็ _____ เครื่องไทยทานแด่พระภิกษุ” ควรใช้คำใด
ในช่องว่าง

- ก. อาราธนาศีล ข. ถวาย
ค. นิมนต์ ง. ลาสิกขา

47. ตามบอกว่า “ชีวิตคือต่อการสู้” ฉันทามว่าเราต้องต่อสู้กับ

อะไร ตามอธิบายว่า “มนุษย์เราไม่ได้ต่อสู้กับใครแต่เรา
ต้องต่อสู้กับความยากจน ความคับแค้น ต่อสู้กับความ
ชั่วร้าย” ข้อความนี้จัดอยู่ในโวหารใด

- ก. เทศนาโวหาร
ข. พรรณนาโวหาร
ค. บรรยายโวหาร
ง. สาธกโวหาร

48. “ท้องฟ้าในยามนี้มีสีมืดดำ ทำให้จิตใจของฉันรู้สึกห่อ

เหี่ยวคิดถึงความหลังที่ฉันต้องนั่งร้องไห้ เพราะความ
เสียใจที่เธอต้องจากไปอย่างไม่วันกลับ ฉันรู้สึกว้าเหว่
และเศร้าอยู่คนเดียว” ข้อความข้างต้น เป็นโวหาร
ประเภทใด

- ก. เทศนาโวหาร ข. พรรณนาโวหาร
ค. บรรยายโวหาร ง. อุปมาโวหาร

49. “ในหมู่บ้านเล็กๆ อันเงียบสงบแห่งนี้ มีธรรมชาติที่
สวยงาม แม่น้ำลำธารไหลเอื่อย ผู้คนเต็มไปด้วยน้ำใจ
อันมีมิตรภาพมอบให้กับผู้มาเยี่ยมทุกท่าน” ข้อความนี้
จัดอยู่ในโวหารใด

- ก. เทศนาโวหาร
ข. พรรณนาโวหาร
ค. บรรยายโวหาร
ง. สาธกโวหาร

50. ข้อใด ไม่ใช่ลักษณะของกลอนสุภาพ

- ก. บทหนึ่ง มี ๔ วรรค วรรคละ ๗ - ๙ คำ
ข. สัมผัสนอก เป็นสัมผัสสระบังคับ
ค. มีวรรคสดับ วรรครับ วรรครอง วรรคส่ง
ง. ๑ บท มี ๔ คำกลอน

51. “กระแสนวนเชี่ยวเรือเลี้ยวลด

คู่อ้อมคดขอบคุ้งคงคาไหล
แต่สายชลเจียวยงวนเป็นวงไป
นี่หรือใจที่จะตรงอย่าสงกา”
ข้อใด มีสัมผัสอักษรมากที่สุด

- ก. วรรคสดับ ข. วรรครับ
ค. วรรครอง ง. วรรคส่ง

52. “มีสิ่งพึงประจบให้ครบบาท

อย่าให้ขาดสิ่งของต้องประสงค์
จงมกน้อยกินน้อยค่อยบรรจง
อย่าจ่ายลงให้มากจะยากนาน”
ข้อใด เป็นสัมผัสในประเภทสัมผัสพยัญชนะ

- ก. จบ - จง ข. ขาด - ของ
ค. ของ - ต้อง ง. จง - จ่าย

53. ข้อใด ใช้สำนวนเปรียบเทียบไม่ถูกต้อง

- ก. รถชนกันเสียงดังราวกับฟ้าร้อง
ข. สมนักดีเป็นคนตรงเหมือนไม้บรรทัด
ค. นางสาวไทยปีนี้สวยเหมือนนางฟ้า
ง. หญิงสาวคนนั้นผิวขาวเหมือนสำลี

54. คนที่ขอบทะเลาะวิวาทกันอยู่เสมอเมื่ออยู่ใกล้กัน ตรง
กับสำนวนใด

- ก. ตัดหางปล่อยัด
ข. ขมื่นกับปูน
ค. หมาเห่าใบตองแห้ง
ง. ต่อปากต่อคำ

55. การย่อความที่ดี คือข้อใด

- ก. ชิดเส้นใต้ข้อความและคัดลอกให้ถูกต้อง
ข. เรียบเรียงด้วยสำนวนตนเอง
ค. ย่อให้สั้นที่สุด
ง. ใช้อักษรย่อ

56. สรรพนามใด ที่ไม่ควรใช้ในการเขียนย่อความ

- ก. ข้าพเจ้า ข. พระองค์
ค. ท่าน ง. เขา

57. ส่วนประกอบที่สำคัญในการเขียนจดหมายลาครู คือ

ส่วนใด

- ก. คำขึ้นต้น
- ข. คำลงท้าย
- ค. คำรับรองของผู้ปกครอง
- ง. สรรพนาม

58. ข้อใด เป็นการเขียน วัน เดือน ปี พ.ศ. ถูกต้องในการเขียนจดหมาย

- ก. ๖ กุมภาพันธ์ ๒๕๕๕
- ข. ๖ ก.พ. ๕๕
- ค. ๖ เดือนกุมภาพันธ์ ๕๕
- ง. วันที่ ๖ เดือนกุมภาพันธ์ พ.ศ.๒๕๕๕

59. ใคร ปฏิบัติตนในการฟังครูพูดได้อย่างเหมาะสม

- ก. ตอง คอยกับด้อยเบาๆ
- ข. เตย นั่งทำการบ้านเงียบๆ
- ค. ตู่ จดบันทึกใจความสำคัญของเรื่องที่ครูพูด
- ง. ต้า อ่านการ์ตูนเงียบๆ

60. ใคร ปฏิบัติได้ถูกต้องตามมารยาทของผู้ฟังที่ดี

- ก. สมชาย คอยกับเพื่อนเบาๆ ขณะที่ครูอธิบาย
- ข. สมหญิง วาดภาพคุณครูที่สอน
- ค. สมใจ ยกมือถามทันทีที่สงสัย
- ง. สมจิต ฟังคุณครูสอนและจดบันทึกย่อ

61. "อะไรทั้งหลายในโลก ก็ทดแทนความรัก ความอบอุ่นในครอบครัวที่สมบูรณ์ไม่ได้ พื้นฐานของครอบครัวในครัวเรือน อันนำไปสู่การสร้างสังคมที่มั่นคงของประเทศ" ข้อความข้างต้นนี้ เน้นความสำคัญของเรื่องใด

- ก. สังคมในครัวเรือน
- ข. การพัฒนาสังคม
- ค. ความมั่นคงของประเทศ
- ง. ความอบอุ่นในครอบครัว

62. "พระบาทสมเด็จพระเจ้าอยู่หัวฯ ทรง

ชื่อตรงชื่อสัตย์ จริยวัตรงามล้ำ
ขันตอดทน ไม่พิโรธใคร"

ข้อความใด มีความหมายไม่ตรงกับข้อความข้างต้น

- ก. รูปร่างผิวพรรณงดงาม
- ข. ความอดทนพากเพียรพยายาม
- ค. การรักษาความสัตย์เป็นที่ตั้ง
- ง. ความประพฤติอันควรที่ปฏิบัติเป็นประจำ

63. "ความยินดีปรีดา ยิ่งกว่ามีสินมีทอง ผู้เขียนต้องการบอกอะไร

- ก. เงินทองทำให้มีความสุข
- ข. ทรัพย์สินมีค่ากว่าความสุข
- ค. ความสุขมีค่ากว่าเงินทอง
- ง. ความสุขเกิดขึ้นได้เพราะทรัพย์สิน

64. "จะคบใครนั้น จงหมั่นตรองให้ดี" เป็นประโยคประเภทใด

- ก. ชี้แจง
- ข. ขอร้อง
- ค. แนะนำ
- ง. ตักเตือน

65. "เราดีไปเขาก็ให้ดีมาตอบ

เราไปชอบเขาก็ตอบชอบมาหา

เราร้ายไปร้ายก็ล้อต่อร้ายมา

ดีไปหาต่อมาสู่เป็นคู่กัน"

ผู้เขียนต้องการบอกอะไร

- ก. การคบเพื่อน
- ข. การตอบแทน
- ค. การทำความดี
- ง. ผลการกระทำ

66. "เสื่อพีเพราะป่าปก ป่ารกเพราะเสื่อย้ง"

ข้อความนี้จัดอยู่ในข้อใด

- ก. ประกาศ
- ข. คำขวัญ
- ค. คำอวยพร
- ง. การโฆษณา

67. ข้อใด เป็นคำขวัญ

- ก. น้ำไฟมีน้อย ใช้สอยประหยัด
- ข. ควรอ่านฉลาดยากก่อนรับประทานทุกครั้ง
- ค. ความพยายามอยู่ที่ไหน ความสำเร็จอยู่ที่นั่น
- ง. ใช้ผลิตภัณฑ์ "เสริมศรี" เป็นเศรษฐกิจในวันหน้า

68. “ขออาราธนาคุณพระศรีรัตนตรัยและสิ่งศักดิ์สิทธิ์
ทั้งหลายในสากลโลก คลบันดาลให้....มีความสุข
ตลอดไป” ข้อความนี้ ควรอยู่ในงานเขียนประเภทใด

- ก. บัตรเชิญ
- ข. บัตรสนเท่ห์
- ค. บัตรอวยพร
- ง. บัตรแสดงความยินดี

69. ข้อความใด เหมาะสมที่จะเป็นคำอวยพรเนื่องในวันขึ้น
ปีใหม่

- ก. ขอให้ได้ชัยชนะสมดังตั้งใจ
- ข. ขอให้สุขภาพแข็งแรงดังเดิม
- ค. ขอให้เดินทางโดยสวัสดิภาพ
- ง. ขอให้มีความสุข สมปรารถนา

70. ข้อใด เป็นประกาศที่ไม่เป็นทางการ

- ก. การแต่งตั้งคณะรัฐมนตรี
- ข. การเสด็จพระราชดำเนินเยือนต่างประเทศ
- ค. ผลการเลือกตั้งผู้ว่าฯ กรุงเทพฯ
- ง. การรับสมัครสมาชิกค่ายสมองแก้ว

71. $(215 \times 650) - 75,250 = \square$

- ก. 645,000
- ข. 215,000
- ค. 139,750
- ง. 149,750

72. $453,210 + (34,680 - 19,876) = \square$

- ก. 468,014
- ข. 54,556
- ค. 458,014
- ง. 468,104

73. ผลลัพธ์ของ $(578 \div 34) + (73 \times 200)$ ได้เท่าไร

- ก. 14,156
- ข. 14,165
- ค. 14,617
- ง. 14,716

74. ผลลัพธ์ของ $(1,250 \times 8) - (1,818 \div 18)$ ได้เท่าไร

- ก. 9,898
- ข. 9,899
- ค. 9,909
- ง. 9,989

75. $(600 \times 3) - (3,535 \div 35)$ ได้ผลลัพธ์เท่าไร

- ก. 101
- ข. 899
- ค. 1,699
- ง. 1,800

76. $(560 \times 30) - (25 \times 210) = \square$

- ก. 11,550
- ข. 16,800
- ค. 5,250
- ง. 12,550

77. สมการในข้อใด แทน จ ด้วย 7 แล้วทำให้สมการนั้น
เป็นจริง

- ก. $จ - 1 = 8$
- ข. $7 + จ = 15$
- ค. $35 \times จ = 5$
- ง. $42 \div จ = 6$

78. 14 เท่าของจำนวนหนึ่งคือ 266 จำนวนนั้นคือ
จำนวนใด

- ก. 9
- ข. 15
- ค. 17
- ง. 19

79. จำนวนในข้อใด เป็นคำตอบของสมการ $m - 45 = 67$

- ก. 22
- ข. 112
- ค. 120
- ง. 122

80. $(y \div 15) \times 3 = 36$ จงหาค่า $y + 1$

- ก. 178
- ข. 179
- ค. 180
- ง. 181

81. ข้อใด เป็น ค.ร.น ของข้อมูลต่อไปนี้

$$30 = 2 \times 3 \times 5$$

$$50 = 2 \times 5 \times 5$$

- ก. 150
- ข. 130
- ค. 110
- ง. 90

82. ห.ร.ม. ของ 54 126 198 มีค่าเท่ากับ ห.ร.ม. ในข้อใด

- ก. 18, 54, 118
- ข. 36, 63, 126
- ค. 54, 72, 189
- ง. 72, 108, 162

83. ห.ร.ม. และ ค.ร.น ของ 36 54 และ 90 มีค่าต่างกันเท่าไร

- ก. 522
- ข. 532
- ค. 540
- ง. 558

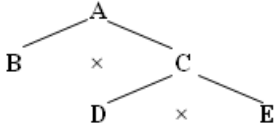
84. จำนวนในข้อใด เมื่อนำมารวมกับ 35 แล้ว จะได้ผลลัพธ์
เป็นจำนวนเฉพาะทุกจำนวน

- ก. 2, 4, 6
- ข. 2, 6, 8
- ค. 3, 6, 8
- ง. 2, 6, 9

85.จำนวนนับที่มากที่สุดที่หาร 14, 42 และ 84 ได้ลงตัว คือ
จำนวนใด

- ก. 2 ข. 4
- ค. 7 ง. 14

86.



จากแผนภาพการแยกตัวประกอบของจำนวน A
ข้อความในข้อใดถูกต้อง เมื่อ $A = B \times D \times E$

- ก. A เป็นจำนวนเฉพาะ
- ข. B ไม่เป็นตัวประกอบเฉพาะ
- ค. C เป็นจำนวนเฉพาะ
- ง. E เป็นตัวประกอบเฉพาะ

87.จำนวนนับที่น้อยที่สุดที่หารด้วย 3 หรือ 4 หรือ 6 ลงตัว
คือจำนวนใด

- ก. 1 ข. 12
- ค. 13 ง. 24

88.ตัวประกอบเฉพาะของ 51 คือ จำนวนใด

- ก. 1, 3 ข. 1, 17
- ค. 3, 17 ง. 3, 19

89.ตัวประกอบเฉพาะทั้งหมด ของ 60 คือจำนวนใดบ้าง

- ก. 1, 2, 3, 5 ข. 2, 3, 5
- ค. 5, 10, 15 ง. 10, 20, 30

90.ผลบวกของ ห.ร.ม และ ค.ร.น. ของ 45 63 และ 54 เป็น
เท่าไร

- ก. 9 ข. 27
- ค. 449 ง. 1,899

91.พ่อค้าซื้อผ้า 80 เมตร ราคาเมตรละ 120 บาท ขายไปครั้งแรก
แรก 20 เมตร ราคาเมตรละ 150 บาท ขายไปครั้งที่ 2
ราคาเมตรละ 110 บาท จนหมด พ่อค้าได้กำไรกี่บาท
เขียนเป็นประโยคสัญลักษณ์ตรงกับข้อใด

- ก. $(120 - 80) \times (150 - 110) = \square$
- ข. $[(150 + 110) \times 80] - (80 \times 120) = \square$

ค. $[(150 \times 20) + (110 \times 60)] - (120 \times 80) = \square$

ง. $(120 \times 80) - (150 \times 20) + (110 \times 60) = \square$

92. $(320 \times 3) + 12,000 = \square$ ตรงกับโจทย์ข้อใด

- ก. พ่อแบ่งเงินให้ลูก 3 คนๆ ละ 320 บาท พ่อยังมีเงินเหลือ
เงิน 12,000 บาท เดิมพ่อมีเงินเท่าไร
- ข. พ่อมีเงิน 12,000 บาท แบ่งให้ลูก 3 คน คนละ 320
พ่อเหลือเงินเท่าไร
- ค. พ่อมีเงิน 12,000 บาท แบ่งให้ลูก 3 คน จะแบ่งได้กี่
คน
- ง. พ่อมีเงิน 12,000 บาท นำไปซื้อของราคา 320 บาท ที่
เหลือแบ่งให้ลูก 3 คน เท่าๆ กัน ลูกจะได้รับคนละ
เท่าไร

93. ค่าประมาณใกล้เคียงจำนวนเต็มหมื่นของจำนวน
938,475 คือข้อใด

- ก. 900,000 ข. 938,000
- ค. 938,500 ง. 940,000

94. ค่าประมาณใกล้เคียงในหลักแสนคือ 900,000 เลข
จำนวนนั้นคือข้อใด

- ก. 837,654 ข. 874,012
- ค. 954,529 ง. 967,053

95.ประเทศไทยคาดการณ์พื้นที่เพาะปลูกข้าวนาปีและ
ข้าวนาปรังของปีเพาะปลูก 2554 ข้าวนาปีปลูก
65,458,230 ไร่ ข้าวนาปรังปลูก 16,728,310 ไร่ จงหา
ค่าประมาณเป็นจำนวนเต็มล้านของผลต่าง พื้นที่
เพาะปลูกข้าวนาปี และข้าวนาปรังในปีเพาะปลูก 2554

- ก. 48,000,000 ไร่ ข. 48,800,000 ไร่
- ค. 49,500,000 ไร่ ง. 50,000,000 ไร่

96. $(19 \times 21) \times 32 = 19 \times (21 \times 32)$ เป็นสมบัติเกี่ยวกับ
จำนวนข้อใด

- ก. สมบัติการสลับที่
- ข. สมบัติการแจกแจง
- ค. สมบัติการเปลี่ยนกลุ่มการคูณ
- ง. สมบัติการเปลี่ยนกลุ่มการบวก

110. ข้อใด เป็น ค.ร.น. ของ $2 \times 2 \times 2 \times 2$ และ $2 \times 2 \times 3$

ก. 2×3

ข. $2 \times 2 \times 2 \times 3$

ค. $2 \times 2 \times 2 \times 2 \times 3$

ง. $2 \times 2 \times 2 \times 2 \times 2 \times 3$

111. น้ำปลาล้างหนึ่งมี 12 ขวด ขายขวดละ 27 บาท
ซื้อน้ำปลา 5 ลัง ต้องจ่ายเงินเท่าไร

ก. 87 บาท

ข. 195 บาท

ค. 1,520 บาท

ง. 1,620 บาท

112. โรงงานแห่งหนึ่งผลิตปากกาได้ 252,000 ด้าม จัดใส่
กล่อง กล่องละ 24 ด้าม และขายราคากล่องละ 15 บาท
โรงงานจะขายปากกาได้เงินกี่บาท

ก. 157,500 บาท

ข. 167,500 บาท

ค. 177,500 บาท

ง. 187,500 บาท

113. พ่อมีเงิน 38,500 บาท แบ่งให้ลูก 3 คน คนละ
6,500 บาท พ่อเหลือเงินเท่าไร

ก. 18,500 บาท

ข. 19,000 บาท

ค. 19,500 บาท

ง. 31,997 บาท

114. ขายแปรงสีฟัน 2 โหลครึ่ง ราคาอันละ 15 บาท
ผ้าเช็ดหน้า 8 ผืน ราคาผืนละ 9 บาท คนซื้อจะต้อง
จ่ายเงินเท่าไร

ก. 467 บาท

ข. 478 บาท

ค. 512 บาท

ง. 522 บาท

115. มีเงิน 25,000 บาท ซื้ออาหาร 5,800 บาท จ่ายค่ายา
1,200 บาท จ่ายค่าธรรมเนียม 1,150 บาท เหลือเงินอีก
เท่าไร

ก. 7,000 บาท

ข. 16,000 บาท

ค. 16,850 บาท

ง. 19,000 บาท

116. กางเกงราคาตัวละ 225 บาท แม่ค่านำมาขายราคาตัวละ
350 บาท ขายกางเกงไปได้ทั้งหมด 12 โหล แม่ค้าจะได้
กำไรเท่าไร

ก. 15,000 บาท

ข. 17,000 บาท

ค. 18,000 บาท

ง. 19,500 บาท

117. นมสดหนึ่งขวดมีปริมาตร 800 มิลลิลิตร ราคาขวดละ
19 บาท ถ้าจ่ายเงินให้คนขาย 500 บาท ได้รับเงินทอน
272 บาท จะได้นมสดปริมาตรทั้งหมดเท่าไร

ก. 14,200 มิลลิลิตร

ข. 12,000 มิลลิลิตร

ค. 10,000 มิลลิลิตร

ง. 9,600 มิลลิลิตร

118. แม่ให้เงินลูกวันละ ค บาท ในเวลา 2 สัปดาห์ ได้เงิน
840 บาท ลูกได้เงินวันละเท่าไร

ก. 60 บาท

ข. 93 บาท

ค. 420 บาท

ง. 450 บาท

119. ซื้อข้าวสารจำนวน ก ถุง ราคาถุงละ 72 บาท
เป็นเงินทั้งหมด 504 บาท ซื้อข้าวสารทั้งหมดกี่ถุง

ก. 7 ถุง

ข. 8 ถุง

ค. 360 ถุง

ง. 432 ถุง

120. พ่อมีเงิน ก บาท พ่อมีเงินน้อยกว่าแม่
3,560 บาท ถ้าแม่มีเงิน 12,435 บาท พ่อมีเงินกี่บาท

ก. 6,150 บาท

ข. 7,875 บาท

ค. 8,875 บาท

ง. 9,875 บาท

121. เลขจำนวนหนึ่งเมื่อหารด้วย 15 แล้วได้ผลลัพธ์เท่ากับ
17 เหลือเศษ 5 ผลต่างของเลขจำนวนนี้กับ 10 เท่ากับ
ข้อใด

ก. 26

ข. 250

ค. 260

ง. 270

122. จัดเก้าอี้ A ตัว เป็นแถวๆ ละ 27 ตัว ได้ 9 แถว มีเก้าอี้
ทั้งหมดกี่ตัว

ก. 183 ตัว

ข. 243 ตัว

ค. 324 ตัว

ง. 432 ตัว

123. มีนม 390 กล่อง น้ำหวาน 585 กล่อง น้ำตาล 780 กล่อง
จัดใส่ถุงอย่างละเท่าๆ กัน ให้มากที่สุด โดยไม่ให้เหลือ
เศษ จะใส่ถุงละกี่กล่อง

ก. 39 กล่อง

ข. 65 กล่อง

ค. 185 กล่อง

ง. 195 กล่อง

124. มีไข่ไก่ 120 ฟอง ไข่ชนกระทา 180 ฟอง ไข่เป็ด

150 ฟอง แบ่งใส่กระเจาดให้มากฟองที่สุด เท่าๆ กัน โดยไม่ให้ปนกัน จะได้กระเจาดละกี่ฟอง และได้กี่กระเจาด

- ก. 15 ฟอง 30 กระเจาด
- ข. 30 ฟอง 15 กระเจาด
- ค. 30 ฟอง 18 กระเจาด
- ง. 30 ฟอง 20 กระเจาด

125. ไม้ 3 ท่อน ยาว 96, 84, 72 เมตร ตัดออกเป็นท่อนยาวที่สุดเท่าๆ กัน จะต้องตัดท่อนละกี่เมตร และได้ทั้งหมดกี่ท่อน

- ก. 24 เมตร 14 ท่อน
- ข. 21 เมตร 12 ท่อน
- ค. 14 เมตร 24 ท่อน
- ง. 12 เมตร 21 ท่อน

126. ระฆัง 3 ใบ มีเวลาตีต่างกัน 15, 18 และ 20 นาที ระฆัง 3 ใบ เริ่มตีครั้งแรกเวลา 8 นาฬิกา ในเวลาใดระฆังทั้ง 3 ใบ จะตีพร้อมกันอีกครั้ง

- ก. 10 นาฬิกา ข. 11 นาฬิกา
- ค. 12 นาฬิกา ง. 13 นาฬิกา

127. ตั้งนาฬิกาปลุก 4 เรือน ปลุกทุก 6 ชั่วโมง 8 ชั่วโมง 12 ชั่วโมง และ 16 ชั่วโมง เวลานานเท่าไร นาฬิกาทั้ง 4 เรือน จะปลุกพร้อมกันเป็นครั้งแรก

- ก. 8 ชั่วโมง ข. 12 ชั่วโมง
- ค. 48 ชั่วโมง ง. 72 ชั่วโมง

128. นักกีฬา 3 คน วิ่งรอบสนามแห่งหนึ่ง แต่ละคนวิ่งรอบสนามใช้เวลา 16, 24, 40 นาที ตามลำดับ นักกีฬาจะวิ่งมาทันพร้อมกัน ต้องใช้เวลานานเท่าใด

- ก. 8 ชั่วโมง ข. 6 ชั่วโมง
- ค. 4 ชั่วโมง ง. 3 ชั่วโมง

129. เลขจำนวนที่มากที่สุดที่สุด เมื่อนำไปหาร 26 เหลือเศษ 2 หาร 52 เหลือเศษ 4 และหาร 67 เหลือเศษ 7 เลขจำนวนนั้นคือข้อใด

- ก. 19 ข. 15
- ค. 13 ง. 12

130. ถ้า ค.ร.น. ของ 12 และ 16 คือ A และ ห.ร.ม. ของ 12, 30, 36 คือ B และ $A - B^2$ มีค่าเท่าไร

- ก. 12 ข. 26
- ค. 42 ง. 48

131. ความหมายของการเจริญเติบโตของร่างกาย คือข้อใด

- ก. การที่ร่างกายมีจำนวนเนื้อเยื่อมากขึ้น
- ข. การที่อวัยวะของร่างกายทำงานได้ดี
- ค. การที่ร่างกายรับประทานอาหารมากขึ้น
- ง. การที่ร่างกายมีความสูงเพิ่มขึ้นและมีน้ำหนักมากขึ้น

132. ในวัยเด็กเราสามารถสังเกตการเจริญเติบโตได้จากสิ่งใด

- ก. การกินอาหาร
- ข. การขึ้นของฟันแท้
- ค. สายตาและการมองเห็น
- ง. การออกกำลังกาย

133. วัยใด ที่ร่างกายหยุดการเจริญเติบโต

- ก. วัยแรกเกิด
- ข. วัยเด็ก
- ค. วัยรุ่น
- ง. วัยผู้ใหญ่

134. ข้อใด เป็นการปฏิบัติตนให้เติบโตสมวัยมากที่สุด

- ก. รับประทานอาหารผักและผลไม้เท่านั้น
- ข. นอนหลับพักผ่อนประมาณ 4-5 ชั่วโมง
- ค. รับประทานอาหารให้ครบ 5 หมู่ ในแต่ละมื้อ
- ง. ออกกำลังกายวันละ 4-5 ชั่วโมงทุกวัน

135. การสำรวจการเจริญเติบโตของตนเอง ทำได้อย่างไร

- ก. ตรวจสอบร่างกายด้วยตนเอง
- ข. การชั่งน้ำหนัก วัดส่วนสูง
- ค. ตรวจสอบสมรรถภาพทางกายด้วยตนเอง
- ง. พบแพทย์เพื่อตรวจดูความผิดปกติของร่างกาย

136. บุคคลในข้อใด ปฏิบัติตนในการดูแลสุขภาพได้ดีที่สุด

- ก. สัม เล่นกีฬาอย่างต่อเนื่องและสม่ำเสมอสัปดาห์ละ 3 ครั้ง
- ข. แดง รับประทานเฉพาะอาหารจำพวกผักและผลไม้ที่มีประโยชน์
- ค. ขาว ต้องอ่านหนังสือเตรียมสอบจึงนอนหลับเพียง 4 ชั่วโมงต่อคืน
- ง. เขียว มีน้ำหนักตัวมากจึงพยายามงดกินอาหารมื้อเช้าเพื่อลดน้ำหนัก

137. หมู่อาหารข้อใด ต่างจากพวก

- ก. นม ปลา
- ข. แป้ง เผือก
- ค. เนื้อสัตว์ ไข่แดง
- ง. ถั่วต่างๆ เต้าหู้

138. อาหารข้อใด ให้สารอาหารประเภทคาร์โบไฮเดรต

- ก. ไข่
- ข. ถั่ว
- ค. ข้าว
- ง. เนย

139. ข้อใด เป็นคู่วิตามินและโทษของการขาดวิตามินได้ถูกต้อง

- ก. วิตามินเค – เป็นหมัน
- ข. วิตามินเอ – กระดูกอ่อน
- ค. วิตามินบี1 – เหน็บชา
- ง. วิตามินอี – เลือดแข็งตัวช้า

140. คนที่ขาดวิตามินซี มักมีโอกาสเป็นโรคใดได้ง่าย

- ก. โรคหวัด
- ข. โรคตาฟาง
- ค. โรคเหน็บชา
- ง. โรคปากนกกระจอก

141. สารอะฟลาทอกซิน พบมากในอาหารใด

- ก. เห็ด
- ข. ลูกชิ้นปิ้ง
- ค. ถั่วลิสง
- ง. กะหล่ำปลี

142. ข้อใด สัมพันธ์กัน

- ก. สีแดง – ดอกกรรณิการ
- ข. สีเหลือง – ดอกกระเจี๊ยบ
- ค. สีเขียว – กาบมะพร้าวเผา
- ง. สีม่วง – ดอกอัญชัน

143. การย่อยอาหาร สิ้นสุดที่อวัยวะใด

- ก. หลอดอาหาร
- ข. กระเพาะอาหาร
- ค. ลำไส้เล็ก
- ง. ลำไส้ใหญ่

144. กระบวนการใด ที่ระบบย่อยอาหาร ระบบหมุนเวียนเลือดและระบบหายใจต้องทำงานร่วมกัน

- ก. กระบวนการสร้างเกล็ดเลือด
- ข. กระบวนการสร้างภูมิคุ้มกัน
- ค. กระบวนการสร้างกล้ามเนื้อ
- ง. กระบวนการสร้างพลังงาน

145. การแลกเปลี่ยนแก๊ส เกิดขึ้นบริเวณใด

- ก. โปรงจมูก
- ข. หลอดลม
- ค. ถุงลมปอด
- ง. แขนงข้อปอด

146. ขณะออกกำลังกาย ระบบใดในร่างกายต้องทำงานหนักขึ้น

- ก. ระบบหายใจ และระบบหมุนเวียนเลือด
- ข. ระบบหายใจ และระบบขับถ่าย
- ค. ระบบหายใจ ระบบหมุนเวียนเลือด และระบบขับถ่าย
- ง. ระบบหายใจ ระบบหมุนเวียนเลือด ระบบขับถ่าย และระบบย่อยอาหาร

147. บุคคลในข้อใด มีการเดินของชีพจรเร็วกว่าปกติ

- ก. กบ นั่งดูทีวีอยู่ในบ้าน
- ข. กุ้ง นอนหลับอยู่ในห้อง
- ค. จีบ วิ่งอยู่ที่สวนสาธารณะ
- ง. เจี๊ยบ อ่านหนังสือทุกวัน

148. สารอาหารที่ได้จากการย่อยอาหารจะลำเลียงไปทั่วร่างกาย ด้วยระบบใด

- ก. ระบบย่อยอาหาร
- ข. ระบบหมุนเวียนเลือด
- ค. ระบบหายใจ
- ง. ระบบขับถ่าย

149.นักเรียนคนหนึ่งวิ่งออกกำลังกาย โดยวิ่งอย่างต่อเนื่องเป็นเวลา 30 นาที จึงรู้สึกเหนื่อยและหายใจเร็วขึ้น อัตราการหายใจ อัตราการเต้นของหัวใจและอัตราการเต้นของชีพจร สัมพันธ์กันอย่างไร

- ก. หัวใจเต้นเร็วขึ้น ชีพจรเต้นช้าลง
- ข. หัวใจเต้นเร็วขึ้น ชีพจรเต้นเร็วขึ้น
- ค. หัวใจเต้นช้าลง ชีพจรเต้นปกติอย่างสม่ำเสมอ
- ง. หัวใจเต้นปกติ ชีพจรเต้นเร็วและช้าสลับกัน

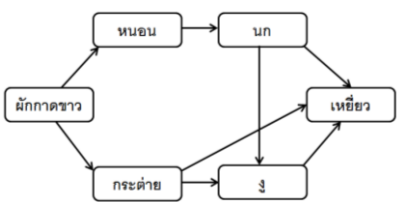
150.สิ่งมีชีวิตคู่ใด มีลักษณะความสัมพันธ์แตกต่างจากข้ออื่น

- ก. เสือกับกวาง
- ข. เหยี่ยวกับกระต่าย
- ค. ม้าลายกับสิงโต
- ง. ฉลามกับเหาฉลาม

151.ภาวะการอยู่ร่วมกันแบบปรสิต เป็นการอยู่ร่วมกันของสิ่งมีชีวิตในลักษณะใด

- ก. ต่างฝ่ายต่างได้ประโยชน์ทั้งคู่
- ข. ต่างฝ่ายต่างเสียประโยชน์ทั้งคู่
- ค. ฝ่ายหนึ่งได้ประโยชน์ อีกฝ่ายหนึ่งเสียประโยชน์
- ง. ฝ่ายหนึ่งได้ประโยชน์ อีกฝ่ายหนึ่งไม่ได้เสียประโยชน์

คำสั่ง ใช้แผนภาพนี้ตอบคำถาม ข้อ 152 – 154



152.จากแผนภาพ ข้อใดเป็นผู้บริโภคอันดับสองทั้งหมด

- ก. หอนอน กระต่าย
- ข. นก เหี้ย
- ค. กระต่าย นก
- ง. หอนอน งู

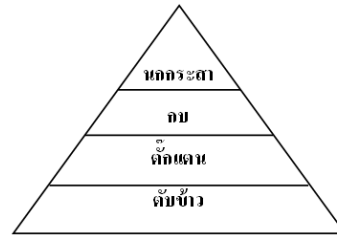
153.จากแผนภาพ ข้อใดกล่าวถูกต้อง

- ก. ผักกาดขาว เป็นผู้บริโภคนับอันดับสุดท้าย
- ข. งูและนก เป็นผู้บริโภคนับอันดับที่หนึ่ง
- ค. เหี้ยกินงู และกระต่าย แต่ไม่กินนก
- ง. เหี้ย เป็นทั้งผู้บริโภคนับอันดับที่สอง และอันดับสุดท้าย

154.จากแผนภาพ ถ้าหอนอนตายหมดแล้ว ข้อใดกล่าวถูกต้อง

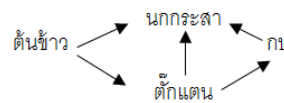
- ก. นก จะสูญพันธุ์ในไม่ช้า
- ข. นก จะมีจำนวนเพิ่มมากขึ้น
- ค. กระต่าย และงูจะสูญพันธุ์
- ง. นก ต้องไปกินผักกาดขาวเป็นอาหาร

155.

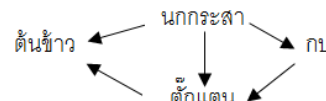


พืระมิตพลังงานในรูป สามารถเขียนโซ่อาหารได้อย่างไร

- ก. ต้นข้าว → ต๊กแตน → กบ → นกกระสา
- ข. ต้นข้าว ← ต๊กแตน ← กบ ← นกกระสา
- ค.



ง.



156. ต้นข้าว → ต๊กแตน → กบ → งู

จากโซ่อาหารที่กำหนดให้ ใครสามารถสร้างอาหารได้เอง

- ก. ต้นข้าว
- ข. ต๊กแตน
- ค. กบ
- ง. งู

157. ข้าว → ปูนา → กบ → หุนา → เหี้ย

จากห่วงโซ่อาหาร ข้อใดกล่าวถูกต้องเกี่ยวกับความสัมพันธ์เชิงอาหาร

- ก. ความสัมพันธ์เชิงอาหารเป็นแบบสายใยอาหาร
- ข. กบ เป็นผู้บริโภคนับอันดับแรก
- ค. หากข้าวมีสารเคมี ปูนาจะได้รับสารพิษมากที่สุด
- ง. เหี้ย เป็นผู้บริโภคนับอันดับสุดท้าย ซึ่งได้รับพลังงานในสารอาหารน้อยที่สุด

158.ข้อใด เป็นการแสดงว่าอุณหภูมิมีผลต่อลักษณะรูปร่างของสิ่งมีชีวิต

- ก. สัตว์ที่อยู่ในเขตหนาวจะมีขนหนา
- ข. สัตว์ที่อยู่ในเขตร้อนจะมีรูปร่างเตี้ย
- ค. สัตว์ที่อยู่ในเขตหนาวจะมีฟันแหลมคม
- ง. สัตว์ที่อยู่ในเขตร้อนจะมีคอยาว

159.ดินเป็นแหล่งอาหารและที่อยู่อาศัยของสัตว์ชนิดใด

- ก. นก
- ข. แมลงปอ
- ค. ไส้เดือนดิน
- ง. แมงมุม

160.สาเหตุสำคัญในการทำลายพื้นที่ป่าไม้ ยกเว้นข้อใด

- ก. การลักลอบตัดไม้ทำลายป่า
- ข. การสร้างสาธารณูปโภคของรัฐ
- ค. การสร้างเขตอุทยาน
- ง. การบุกรุกพื้นที่ป่าไม้

161.ข้อใด เป็นการอนุรักษ์ทรัพยากรธรรมชาติอย่างยั่งยืน

- ก. เฝ้าระวัง
- ข. สร้างจิตสำนึก
- ค. เพิ่มบทลงโทษ
- ง. ปลูกต้นไม้ทดแทน

162. "โครงการแก้มลิง" มีวัตถุประสงค์เพื่อแก้ปัญหาในเรื่องใด

- ก. ปัญหาน้ำเน่า
- ข. ปัญหาน้ำท่วม
- ค. ปัญหาดินเสีย
- ง. ปัญหาดินเปรี้ยว

163.ข้อใด ไม่ถูกต้อง

- ก. พลังงานต้องใช้อย่างคุ้มค่า เพื่อจะได้มีใช้ไปนานๆ
- ข. พลังงานบางอย่างมีจำกัด ต้องใช้อย่างประหยัด
- ค. พลังงานมีอยู่มากมาย ยังพอใช้ได้เต็มที่
- ง. พลังงานมีความสำคัญต่อการผลิตปัจจัยสี่ของมนุษย์

164.ข้อใด เป็นแนวทางแก้ปัญหาทรัพยากรธรรมชาติและสิ่งแวดล้อมที่ดีที่สุด

- ก. หาแหล่งทรัพยากรใหม่
- ข. ลดปริมาณการผลิต
- ค. ควบคุมการใช้อย่างจำกัด
- ง. ช่วยกันรักษาไม่ให้เกิดทำลาย

165.สิ่งมีชีวิตในข้อใด มีบทบาทเป็นผู้ย่อยสลายในสิ่งแวดล้อม

- ก. รา แบคทีเรีย
- ข. ปลวก หนอน
- ค. ไส้เดือนดิน เห็ด
- ง. แบคทีเรีย แร้ง

166.สภาพแวดล้อมใด ทำให้ใบของต้นกระบองเพชรมีการเปลี่ยนแปลงรูปร่างเป็นหนาม

- ก. ดิน
- ข. อุณหภูมิ
- ค. แสงออกซิเจน
- ง. ความเป็นกรด - เบส

167.คนในเมืองควรช่วยกันปลูกต้นไม้เพื่อช่วยลดมลพิษทางอากาศ เนื่องจากต้นไม้มีส่วนช่วยลดแก๊สใด

- ก. ออกซิเจน
- ข. ไนโตรเจน
- ค. คาร์บอนไดออกไซด์
- ง. คาร์บอนมอนอกไซด์

168.ข้อใด เป็นวิธีดูแลรักษาสิ่งแวดล้อมอย่างยั่งยืน

- ก. ปลูกต้นไม้เพิ่มขึ้น
- ข. สร้างเขื่อนไว้เก็บกักน้ำ
- ค. ขุดคลองเป็นทางระบายน้ำ
- ง. เก็บขยะที่อุ้ดคันในท่อระบายน้ำ

169.การกระทำใด ช่วยรักษาพื้นที่ป่าไม้ให้มีความอุดมสมบูรณ์เพิ่มขึ้น

- ก. สร้างเขื่อน
- ข. ทำไร่เลื่อนลอย
- ค. จัดตั้งอุทยานแห่งชาติ
- ง. ขยายเขตอุตสาหกรรม

170.คนที่อยู่ในเมืองสามารถช่วยลดมลพิษในอากาศได้โดยวิธีใดเหมาะสมที่สุด

- ก. ไม่เผาขยะบริเวณบ้าน
- ข. ไม่ทิ้งขยะลงแหล่งน้ำ
- ค. ใช้รถยนต์ส่วนตัวให้น้อยลง
- ง. ไม่สร้างโรงงานอุตสาหกรรม

171. My sister got married to John, so John is

my _____.

- a. husband b. sister-in-law
c. brother-in-law d. daughter-in-law

172. David is my grandfather's father.

I call him "_____."

- a. grandson
b. grandfather
c. great grandmother
d. great grandfather

173. A and B are talking about their free time.

A: _____

B: My hobby is collecting stickers.

- a. What is your hobby?
b. What is your sticker album?
c. What is your favorite sticker?
d. What kind of sticker do you have?

174. A: What's your hobby?

B: My hobby is _____.

- a. go to sleep b. study English
c. listening to music d. do homework

175. Our teacher is teaching us. _____

Don't talk.

- a. Don't pay attention.
b. Pay attention to her.
c. Open the window.
d. Let's copy homework.

176. A: How can I lose weight, doctor?

B: It is easy. _____

A: Thank you.

- a. Don't make any noise.
b. Eat candies and exercise.
c. Don't walk home but take a bus.
d. Don't eat candies and get more exercise.

177. A: May I borrow your atlas, please?

I want to find countries?

B: Here you are.

A: Thank you.

What subject are they studying?

- a. History b. Science
c. Geography d. Mathematics

178. You can learn about experiment plants and

animals in _____ class.

- a. History b. Biology
c. Geography d. Physical education

179. You have two of these. They have your hands at

the end. They are _____.

- a. arms b. thumbs
c. ankles d. elbows

180. What do you use to smell with?

- a. mouth b. nose
c. eyes d. hands

181. To play badminton, we need a _____, not a ball.

- a. ball b. basket
c. shuttlecock d. pair of gloves

182. It is better to be very tall if you want to play

_____.

- a. golf b. football
c. basketball d. table tennis

183. What sport do we play in the gym?

- a. table tennis b. football
c. cricket d. rugby

184. _____ are strong and dangerous.

Do not go near them.

- a. Tigers b. Toads
c. Squirrels d. Caterpillars

185. What animal cannot fly. It lives in the North Pole.

- a. Penguin b. Lizard
c. Octopus d. Sparrow

186. That mother cat looks after her kittens until they are old enough to take care of themselves.

The underline word means _____.

- a. baby dogs b. baby cats
c. baby boys d. baby horses

187. Mr. Bill _____ the fence beautifully.

- a. bakes b. paints
c. visits d. cries

188. He won the first prize in speech contest.

What does he feel?

- a. scared b. sleepy
c. glad d. bored

189. Birds and insects eat food that they can _____

whole things because they have no teeth.

- a. bite b. tear
c. grind d. swallow

190. William can't climb up the tree because he is

_____ of heights.

- a. afraid b. thirsty
c. sleepy d. bored

191. Dairy products mean.

- a. organic products
b. products made from milk
c. products you eat every day
d. something you eat on a farm

192. Paul never eats meat, he is a _____.

- a. vegetarian b. vegetable
c. vegetation d. musician

193. A: Where do you like to have breakfast?

B: At home.

A: What do you usually eat for breakfast?

B: _____

- a. Palm juice with ice.
b. Pork with candy.
c. Cereal with milk
d. Mashed potatoes with water.

194. Jack likes his _____ rare but I prefer mine well done.

- a. pizza b. steak
c. sandwich d. hamburger

195. Janet fell from her horse yesterday and injured her _____.

- a. breath b. tongue
c. stomach d. backbone

196. After speaking for two hours, the teacher had _____.

- a. a sore throat b. a sore eye
c. a headache d. a cold

197. Which choice is countable noun?

- a. chalk, fishsauce, mud
b. fish, mouse, knife
c. cheese, rice, deer
d. salt, jam, sugar

198. Which word is uncountable noun?

- a. paper b. fork
c. village d. country

199. Which choice is a singular noun?

- a. oxen, fish b. butter, children
c. dress, bowl d. dolphins, sheep

200. Don't buy _____, they aren't very fresh.

- a. that fish b. those fish
c. this carrot d. those oxen

201.Q: _____ do you go to bed?

A: I go to bed at half past eight.

- a. What b. Where
c. When d. Why

202.Q: _____ does it take to get to the museum from here?

A: It takes about 20 minutes.

- a. How far b. How long
c. How often d. How deep

203.Kate and I are twin sisters.

_____ are beautiful twins.

- a. We b. They
c. He d. She

204. I gave the package to Susan.

- a. him b. his
c. her d. hers

205.This computer is yours. That computer is _____.

- a. my b. mine
c. him d. her

206.These pencils are our pencils. These are _____.

- a. hers b. his
c. yours d. ours

207. It is dark here.

- a. Please close the window.
b. Please switch on the light.
c. Be quiet, please.
d. Please switch off your mobile phone.

208.Many students are studying in the classroom at the moment.

- a. Please take a queue.
b. Be quiet, please.
c. Open the window.
d. Make a loud noise.

209.It is almost eight o'clock.

You _____ now.

- a. should drive a motorbike
b. should not take this medicine
c. should not press the red button
d. should go to work

210.A: I don't understand how to write an essay in English.

B: _____

- a. You should not eat so much sweets.
b. You should go to school early.
c. You should ask your teacher to explain it again.
d. You should not watch television.

211.Bam: May I use your pen please?

Dang: _____. Here you are.

Bam: Thank you.

- a. Sorry b. Excuse me
c. Hold on d. Yes, of course

212.A: _____

B: I am sorry. I left it at home.

A: Don't worry.

- a. Can I help you?
b. You can borrow my book.
c. Could you lend me your phone?
d. You can take you to school.

213.The shops in the city usually _____ at nine o'clock in the morning.

- a. open b. close
c. doesn't open d. opens

214.In June, we go to school _____.

- a. yesterday b. everyday
c. tomorrow d. now

215. Mark always _____ his work at 6 o'clock in the evening.

- a. finishes b. finish
c. start d. finishing

216. My daughter _____ her teeth twice a day.

- a. brushed b. brushes
c. brushs d. brush

217. _____ you remember her name?

- a. Does b. Do
c. Did d. Done

218. _____ she go to school by bus everyday?

- a. Do b. Does
c. Did d. Done

219. A: _____

B: He is a worker in a company.

- a. What does your father do?
b. Where do your father do?
c. Where did your father do?
d. Where does your father does?

220. Make the questions from these words?

What/ in your free time/ you/ usually/ do

- a. What you usually do in your free time?
b. What usually do you do in your free time?
c. What do you usually do in your free time?
d. What does you usually do in your free time?

221. Mary's really tried, but she _____ to bed.

- a. walks b. wants to go
c. walk d. doesn't want to go

222. Indy is very quiet person.

She _____ very much.

- a. doesn't talk b. doesn't walk
c. talks very much d. doesn't work

223. I don't like washing the car, so I _____ it very often.

- a. wash b. don't wash
c. use d. don't buy

224. We _____ that new painting.

We think it is terrible.

- a. like b. don't feel
c. don't like d. don't understand

225. A: _____

B: Yes she can.

- a. Can she speak English?
b. Can he play ping-pong?
c. What can you do with a shirt?
d. Can they drive a car?

226. At the museum.

A: Can we touch something in the museum?

B: _____

- a. No, you can't. b. No, you can.
c. Yes, you can't. d. Yes, I can.

227. Which choice is countable noun?

- a. grapes, soap b. onion, salt
c. bread, carrot d. sweater, ticket

228. Which choice is uncountable noun?

- a. bench, soup, pumkin
b. soy milk, money, closet
c. speaker, cauliflower, photo
d. milk, juice, money

229. I think I need some _____ but I don't need any _____.

- a. sugar, orange b. bread, carrots
c. flower, banana d. tea, orange

230. There are many _____ in the desert and we don't have much _____.

- a. cool day, rain b. sand, wind
c. hot days, rain d. dried leaves, animal

231.Situation: Justin is a tourist. He is very hungry.

He wants to buy some food.

Justin: Excuse me. Are there _____ restaurants near here?

Bob: Yes. You go straight. It's on the left.

- | | |
|--------|---------|
| a. a | b. an |
| c. any | d. some |

232.A: Would you like _____ coffee?

B: Yes, please.

- | | |
|---------|---------|
| a. some | b. any |
| c. much | d. many |

233.A: My mom makes a cake for me, do you want _____?

B: Yes, please.

- | | |
|---------|---------|
| a. any | b. some |
| c. much | d. many |

234.I have three _____ of rice in the bucket.

- | | |
|---------|-----------|
| a. bar | b. loaves |
| c. tube | d. kilos |

235.There are two _____ of water on the table.

- | | |
|------------|-----------|
| a. glass | b. boxes |
| c. glasses | d. pieces |

236.I give you a _____ of chocolate for your birthday present.

- | | |
|-----------|-----------|
| a. carton | b. glass |
| c. bar | d. bottle |

237.How many _____ do you have?

- | | |
|-----------|------------|
| a. egg | b. puppies |
| c. kitten | d. rabbit |

238.A: _____ white socks do you have in the drawer?

B: I have three white socks. (9)

- | | |
|--------------|-------------|
| a. How much | b. How many |
| c. How often | d. How old |

239.A: _____ juice do you want?

B: I want a glass of orange juice.

- | | |
|-------------|-------------|
| a. How long | b. How tall |
| c. How many | d. How much |

240.A: _____ does pizza cost?

B: It's about 500 baht.

- | | |
|-------------|-------------|
| a. How many | b. How long |
| c. How far | d. How much |

Read this passage and answer the question.

No. 241 – 245

An octopus is an animal that lives in the sea. This sea animal has soft body and eight arms. It uses its arms to catch crabs, clams, lobsters and shellfish. It also uses its arms to open the shell of shellfish so it can eat them. Along these arms are suckers and these can hold on to anything the octopus catches.

When the octopus is in danger. It squirts black ink into the water. Then the octopus can hide from an enemy. The enemy may be a shark, a whale or a person.

241.The best title for this story is _____.

- | |
|-------------------------|
| a. the happy shellfish |
| b. the enemy of octopus |
| c. the amazing octopus |
| d. the sea animal |

242. "It" in line 3 means _____.

- | | |
|-------------|----------------|
| a. a person | b. a shellfish |
| c. a crab | d. an octopus |

243.What does this sea animal use its arms?

- | |
|---------------------------------|
| a. catch and open its food. |
| b. squirt black ink into water. |
| c. kill its enemy. |
| d. hide from an enemy. |

244. When does the octopus squirt black ink into water?

- It wants to play.
- It is not in danger.
- It meets its friend.
- It needs to hide from its enemy.

245. Which are the enemies of the octopus?

- persons, sharks and whales
- crabs, clams and whales
- suckers, arms and persons
- clams, shellfish and crabs

Read this passage and answer the questions.

No.246 – 250

Robin has a dog. Its name is Jack. Jack does not eat well and is not very active. Robin's mother thinks the dog is sick. So Robin takes it to the veterinarian. The doctor checks Jack. He keeps Jack at the clinic for a few days, gives good care and feeds with healthy food. When Robin goes back to pick up his dog, he is very happy to see Jack well, strong and active. Now he also wants to be a veterinarian when he grows up. The doctor tells him to love animals if he wants to be a good veterinarian.

246. Why is the dog not active?

- The dog has a lot of fleas.
- The dog is sick.
- The dog does not get good care.
- The dog does not have a friend.

247. What does Robin want to be when he grows up?

- He wants to have another dog.
- He wants to sell Jack.
- He wants to walk his dog.
- He wants to be a veterinarian.

248. What does this story teach us?

- Don't play with the dogs.
- Love animals.
- Don't take the dog to the clinic.
- Don't give good food to the dog.

249. Which sentence is not correct?

- The dog gets good care.
- The dog seems to be sick.
- Robin does not want to be a veterinarian.
- The veterinarian feeds the dog with good food.

250. What should you do when your pets are sick?

- I should take them to the veterinarian.
- I should take them to swim.
- I should take them to walk.
- I should buy a new dog.

251. กิจกรรมใด ที่นักเรียนสามารถร่วมกิจกรรมส่งเสริม

ประชาธิปไตยได้เหมาะสมที่สุด

- การเลือกตั้งสมาชิกสภาผู้แทนราษฎร
- การเลือกตั้งองค์การบริหารส่วนตำบล
- เลือกตั้งหัวหน้าห้องเรียน
- เลือกตั้งนายกเทศมนตรี

252. การปฏิบัติในข้อใด ถือว่าผิดกฎหมายเลือกตั้ง

- ช่วยผู้สมัครหาเสียง
- ลงคะแนนเสียงให้ฝ่ายค้าน
- ฉีกบัตรลงคะแนนเลือกตั้ง
- พิมพ์โปสเตอร์หาเสียงให้ผู้สมัคร

253. ข้อใด เป็นหลักการประชาธิปไตย

- ไม่รับฟังเสียงส่วนน้อย
- ใช้เหตุผลยุติความขัดแย้ง
- ใช้อำนาจในการแก้ปัญหา
- นึกถึงประโยชน์ส่วนตัวเป็นหลัก

254.ข้อใด ถือเป็นกิจกรรมเพื่อส่งเสริมประชาธิปไตยมากที่สุด

- ก. การนัดหยุดงานประท้วง
- ข. การรณรงค์ให้ไปใช้สิทธิเลือกตั้ง
- ค. การไปทัศนศึกษาที่ทำเนียบรัฐบาล
- ง. การเขียนบทความเพื่อวิจารณ์รัฐบาล

255.การที่ประชาชนลงคะแนนเลือกตัวแทนเพื่อเข้าไปทำหน้าที่แทนตน ข้อความนี้หมายถึงอะไร

- ก. การแต่งตั้ง
- ข. การเลือกตั้ง
- ค. การรวมอำนาจ
- ง. การแย่งชิงอำนาจ

256.วันรัฐธรรมนูญ มีความสำคัญอย่างไร

- ก. เป็นวันที่คนไทยยกเลิกระบบทาสและไพร่
- ข. เป็นวันที่ประเทศไทยมีสภารัฐธรรมนูญ
- ค. เป็นวันที่ประชาชนชาวไทยมีรัฐธรรมนูญฉบับแรก
- ง. เป็นวันที่ประเทศไทยได้รับอิสระในการออกกฎหมาย

257.ความหมายของการปกครองแบบประชาธิปไตยคือข้อใด

- ก. คณะรัฐมนตรีต้องมาจากการเลือกตั้ง
- ข. ประชาชนมีส่วนร่วมในการปกครอง
- ค. ประชาชนมีเสรีภาพในตนเอง
- ง. การมีพระมหากษัตริย์เป็นประมุข

258.ใคร ทำผิดกฎหมายยาเสพติดให้โทษ

- ก. เจมส์ ดิคบุห์รี
- ข. รั้วทอง ดิดสุรา
- ค. หนุณา ดิดยาฮี
- ง. ทองร่วม ดิดยานัตถ์

259.ใคร ปฏิบัติตนไม่เหมาะสม

- ก. สมคิด เตรียมหยุดรถเมื่อเห็นสัญญาณไฟจราจรสีเหลือง
- ข. นิกร หยุดรถเมื่อเห็นสัญญาณไฟจราจร สีแดง
- ค. ดิเรก ขับรถอย่างรวดเร็วที่สุดเมื่อเห็นสัญญาณไฟจราจร สีเขียว
- ง. ประสิทธิ์ ชะลอความเร็วรถลงเมื่อเห็นคนเดินข้ามถนน

260.ใคร ปฏิบัติตนไม่ถูกต้องตามกฎหมายที่เกี่ยวข้องในชีวิตประจำวัน

- ก. ชิด แจ็งย้ายที่อยู่ใหม่ต่อนายทะเบียนภายใน 15 วัน
- ข. ชิด แจ็งต่อนายทะเบียนเกี่ยวกับการตายของคุณทวดภายใน 30 วัน
- ค. ชัย เข้ารับการตรวจเลือกเข้าเป็นทหารกองประจำการ เมื่ออายุ ครบ 21 ปี
- ง. ชาติ ไปทำบัตรประชาชนเมื่ออายุครบ 7 ปี

261.ข้อใด เป็นการช่วยอนุรักษ์วัฒนธรรมและประเพณีไทย

- ก. น้ำฝน ตั้งชื่อลูกแมวว่าสีนวล
- ข. สมชาย ยกมือไหว้พระที่เดินสวนมา
- ค. เกรท ไปดูภาพยนตร์กับครอบครัว
- ง. วาน และเพื่อนๆ ไปเที่ยวที่สุโขทัย

262.การปฏิบัติในข้อใด ช่วยอนุรักษ์วัฒนธรรมไทยได้ดีที่สุด

- ก. อุ่ม นำผ้าไหมไทยเนื้อดีมาตัดเป็นชุดหมั่นและชุดแต่งงานเพื่อสวมใส่
- ข. กุ้ง ชวนเพื่อนๆ ไปดูพลุที่จุดอย่างสวยงามในวันขึ้นปีใหม่
- ค. ฝน ชมภาพยนตร์ทุกเรื่องที่เป็นของคนไทยและคนไทยแสดงนำ
- ง. น้อย ชุดพบวัตถุโบราณในบริเวณบ้านจึงนำมาตั้งแสดงไว้ในตู้ที่บ้าน

263.ข้อใด เป็นประโยชน์ของวัฒนธรรมไทย

- ก. เป็นสิ่งที่ล้ำสมัย
- ข. เป็นเครื่องมือหาเงิน
- ค. เป็นสิ่งแสดงถึงความมั่งมี
- ง. เป็นแบบแผนการดำเนินชีวิต

264.ข้อใด เป็นลักษณะของผู้มีมารยาทที่ดี

- ก. รีบเดินผ่านผู้ใหญ่ที่เดินสวนทางมา
- ข. เอามือไขว้หลังขณะยืนคุยกับผู้ใหญ่
- ค. เดินไม่สำรวจและลงส้นเท้าเสียงดัง
- ง. ยกมือไหว้ก่อนรับของจากผู้ใหญ่

265.ใคร แสดงถึงมารยาทที่เหมาะสมที่สุด

- ก. สุคา โบกมือลาครูขณะจะกลับบ้าน
- ข. พรรณี กอดแสดงความยินดีกับสุชาติ
- ค. ดลยา ใช้ช้อนของตนตักอาหารให้เพื่อน
- ง. ป่าน นั่งพับเพียบขณะฟังพระเทศน์

266.การยืนในลักษณะสุภาพ ไม่ก่อความรำคาญหรือเกะกะ กิดขวางผู้อื่น เป็นลักษณะของการปฏิบัติมารยาทการยืนแบบใด

- ก. การยืนตรง
- ข. การยืนคุยกับเพื่อน
- ค. การยืนฟังโอวาทในแถว
- ง. การยืนสนทนากับผู้ใหญ่

267.การรับประทานลาบ น้ำตก ส้มตำ เป็นอาหารหลัก แสดงถึงวัฒนธรรมด้านอาหารของประชาชนในภาคใด

- ก. ภาคเหนือ
- ข. ภาคตะวันออกเฉียงเหนือ
- ค. ภาคกลาง
- ง. ภาคใต้

268.วัฒนธรรมของประชาชนในภาคกลางมีความเกี่ยวข้องกับสิ่งใดมากที่สุด

- ก. ภูเขา
- ข. ทะเล
- ค. ป่าเขา
- ง. แม่น้ำ

269.ใคร ติดตามข้อมูลข่าวสารและเหตุการณ์ต่างๆ และนำไปใช้ได้เหมาะสมที่สุด

- ก. นิด ตัดข่าวที่น่าสนใจแล้วติดลงในสมุด
- ข. ดล นำเทคนิคการล้างมือจากข่าวมาใช้
- ค. ฝน สรุปเหตุการณ์สำคัญให้เพื่อนฟัง
- ง. ต้น ชวนเพื่อนมาดูข่าวกีฬาที่บ้าน

270.เราควรมีหลักในการเลือกรับและใช้ข้อมูลข่าวสารอย่างไร

- ก. พิจารณาแหล่งที่มาและความน่าเชื่อถือ
- ข. ใส่ใจข้อคิดเห็นมากกว่าข้อเท็จจริง
- ค. เลือกรับเฉพาะสื่อที่ตนชอบ
- ง. รีบนำไปเผยแพร่ต่อทันที

271.ข้อใด คือบทบาทหน้าที่ขององค์กรปกครองส่วนท้องถิ่น

- ก. เสนอทั้ทหารเข้าประจำการ
- ข. บรรเทาสาธารณภัยในชุมชน
- ค. เจริญการทูตกับต่างประเทศ
- ง. จัดสร้างโรงไฟฟ้าขนาดใหญ่

272.การมีส่วนร่วมในกิจกรรมประชาธิปไตยของประชาชนภายหลังการเลือกตั้ง ข้อใดสำคัญที่สุด

- ก. ติดตามผลการนับคะแนน
- ข. ติดตามข่าวการจัดตั้งรัฐบาล
- ค. ติดตามข่าวการเปิดประชุมสภานัดแรก
- ง. ติดตามการทำหน้าที่ของ ส.ส และรัฐบาล

273.ถ้าประเทศไทยไม่มีการปกครองส่วนท้องถิ่น จะส่งผลในข้อใดมากที่สุด

- ก. การพัฒนาประเทศดำเนินไปได้อย่างสะดวก เพราะรัฐบาลเป็นผู้ดูแล
- ข. การพัฒนาประเทศล่าช้า เพราะประชาชนไม่กล้าร้องเรียนหรือติดต่อกับรัฐบาลโดยตรง
- ค. การพัฒนาประเทศทำได้ไม่สอดคล้องกับความต้องการที่แท้จริงของประชาชน
- ง. การพัฒนาประเทศเป็นไปได้อย่างรวดเร็ว เพราะประชาชนสามารถแสดงความเห็นกับรัฐบาลได้โดยตรง

274.การบริหารราชการแผ่นดินในข้อใด แตกต่างจากข้ออื่น

- ก. อบต.
- ข. อำเภอ
- ค. เทศบาล
- ง. เมืองพัทยา

275.ข้อใด เป็นหน้าที่ของประชาชนที่พึงปฏิบัติ

- ก. ทุกคนต้องทำงาน
- ข. ทุกคนต้องเรียนหนังสือ จบ ป.6
- ค. ทุกคนต้องปฏิบัติตามกฎหมาย
- ง. ทุกคนต้องมีบ้าน

276.ตัวแทนที่ดีของประชาชนในระบอบประชาธิปไตย

ควรมีลักษณะอย่างไร

- ก. เป็นผู้มีฐานะทางเศรษฐกิจดี
- ข. เป็นผู้ที่มีชื่อเสียงในสังคม
- ค. เป็นผู้ที่มีความรู้ความสามารถ
- ง. เป็นคนที่อาศัยในพื้นที่มาเป็นเวลานาน

277.กฎหมายเป็นข้อบังคับให้ทุกคนปฏิบัติตามเพื่ออะไร

- ก. ความยุติธรรม ข. ความสุข
- ค. ความสะดวก ง. ความถูกต้อง

278.สิ่งสำคัญในการปกครองระบอบประชาธิปไตย คืออะไร

- ก. การยอมรับเสียงข้างมาก
- ข. การได้แสดงความคิดเห็น
- ค. การปฏิบัติตามคำสั่งของผู้นำ
- ง. การอยู่ร่วมกันในสังคม

279.พฤติกรรมใด ที่ถือว่าเป็นการกระทำผิดกฎหมาย

เลือกตั้งตามระบอบประชาธิปไตยของไทย

- ก. การเชิญชวนให้ประชาชนไปใช้สิทธิเลือกตั้ง
- ข. การช่วยปิดประกาศป้ายหาเสียง
- ค. การซื้อสิทธิขายเสียงของประชาชน
- ง. การแต่งกายไม่สุภาพไปเลือกตั้ง

280.ในการปกครองระบอบประชาธิปไตย ใครที่เป็นผู้ที่มีสิทธิเลือกตั้ง

- ก. ภิกษุ - สามเณร
- ข. ผู้ที่มีอายุ 18 ปีบริบูรณ์ขึ้นไป
- ค. ผู้วิกลจริต
- ง. ผู้ที่อยู่ระหว่างการถูกเพิกถอนสิทธิเลือกตั้ง

281.การตรวจสอบหลักฐาน อยู่ในขั้นตอนใดของวิธีการทางประวัติศาสตร์

- ก. กำหนดหัวข้อที่จะศึกษา
- ข. นำเสนอข้อมูล
- ค. สืบค้นและรวบรวมหลักฐาน
- ง. วิเคราะห์หลักฐาน

282.ข้อใด ไม่ใช่ผลงานการนำเสนอข้อมูลในขั้นตอนของวิธีการทางประวัติศาสตร์

- ก. บันทึก ข. รายงาน
- ค. เรียงความ ง. นิทรรศการ

283.ถ้านักเรียนได้ข้อมูลมาจากหลายแหล่ง นักเรียนควรทำอย่างไรกับข้อมูลเหล่านั้น

- ก. เลือกเพียงข้อมูลเดียว แล้วสรุป
- ข. เปรียบเทียบข้อมูลทั้งหมด และสรุป
- ค. รวบรวมข้อมูลทั้งหมด และสรุป
- ง. สรุปข้อมูลทั้งหมด

284.ใคร อยู่ในขั้นตอนของวิธีการหาความรู้ทางประวัติศาสตร์ขั้นตอนแรก

- ก. สมชายสัมภาษณ์ชาวบ้าน
- ข. มานีอ่านศิลาจารึก
- ค. ศักดิ์สิทธิ์เลือกหัวข้อที่จะศึกษา
- ง. สุชาติความข้อมูล

285.ข้อใด ไม่ใช่ ประโยชน์ของการศึกษาประวัติศาสตร์

- ก. เข้าใจพัฒนาการด้านต่างๆ ของประเทศ
- ข. เข้าใจความเป็นมาของชาติไทย
- ค. เข้าใจเหตุการณ์สำคัญของประเทศ
- ง. เข้าใจการเลือกแหล่งท่องเที่ยวที่สำคัญ

286.หลักฐานทางประวัติศาสตร์ในข้อใด ไม่ใช่หลักฐานที่เป็นลายลักษณ์อักษร

- ก. ตำนาน
- ข. จดหมายเหตุ
- ค. หนังสือเรียนประวัติศาสตร์
- ง. พระพุทธรูปโบราณ

287.ข้อใด ไม่ใช่หลักฐานชั้นต้น

- ก. ภาพถ่าย
- ข. อนุสรณ์สถาน
- ค. บันทึก
- ง. วิดิทัศน์

288.ศิลาจารึกของพ่อขุนรามคำแหง มีคุณค่าทาง

ประวัติศาสตร์อย่างไร

- ก. เป็นเครื่องยึดเหนี่ยวจิตใจของคนในอดีต
- ข. เป็นศิลปะการจารึกที่มีคุณค่า
- ค. บันทึกเรื่องราวต่างๆ ในอดีต
- ง. มีอายุหลายร้อยปี

289.วัฒนธรรมพื้นบ้านต่างๆ มักมีการสืบทอดด้วยวิธีใด

- ก. การบอกเล่า
- ข. การบันทึกเอาไว้
- ค. อินเทอร์เน็ต
- ง. หนังสือเรียน

290.หลักฐานทางประวัติศาสตร์ในข้อใด ที่ไม่น่าเชื่อถือมากที่สุด

- ก. จดหมายเหตุ
- ข. นิทาน
- ค. จารึก
- ง. โบราณสถาน

291.หลักฐานทางประวัติศาสตร์ในข้อใด ที่เป็นลายลักษณ์อักษรทั้งหมด

- ก. พระพุทธรูป ตำนาน
- ข. ปราสาท เจดีย์
- ค. จดหมายเหตุ พงสาวดาร
- ง. หนังสือเรียน อวุธโบราณ

292. "เรื่องกลองข้าวน้อยแม่" เป็นข้อมูลหลักฐานทางประวัติศาสตร์ประเภทใด

- ก. ตำนาน
- ข. พงสาวดาร
- ค. จารึก
- ง. จดหมายเหตุ

293.พงสาวดาร เป็นข้อมูลที่เน้นเรื่องใด

- ก. ชาวสวน
- ข. พระสงฆ์
- ค. สามัญชน
- ง. พระมหากษัตริย์

294.หลักฐานทางประวัติศาสตร์ในข้อใด ที่น่าเชื่อถือมากที่สุด

- ก. จารึก
- ข. ตำนาน
- ค. นิทาน
- ง. พงสาวดาร

295.วิธีการทางประวัติศาสตร์ในขั้นตอนใดที่ช่วยให้ผู้ศึกษาใช้หลักฐานที่ถูกต้อง

- ก. กำหนดหัวข้อ
- ข. รวบรวมหลักฐาน
- ค. ตรวจสอบหลักฐาน
- ง. เรียบเรียงและนำเสนอ

296.บันทึกเรื่องราว เกี่ยวกับพระมหากษัตริย์ตามลำดับเหตุการณ์ คือหลักฐานทางประวัติศาสตร์ข้อใด

- ก. จารึก
- ข. ตำนาน
- ค. พงสาวดาร
- ง. ราชกิจจานุเบกษา

297.แหล่งที่จะไปศึกษาค้นคว้าหลักฐานทางประวัติศาสตร์ที่เป็นลายลักษณ์อักษรคือข้อใด

- ก. ห้องสมุดโรงเรียน
- ข. สอบถามผู้เชี่ยวชาญ
- ค. อุทยานประวัติศาสตร์
- ง. พิพิธภัณฑ์ของจังหวัด

298.หนังสือแจ้งข่าวประกาศหรือคำสั่งของทางราชการ ในสมัยรัตนโกสินทร์ เรียกว่าอะไร

- ก. ตำนาน
- ข. จดหมายเหตุ
- ค. พระราชนิพนธ์
- ง. ราชกิจจานุเบกษา

299.ถ้านักประวัติศาสตร์ จะประเมินความเป็นจริงของหลักฐานทางประวัติศาสตร์ว่าคืออะไร อยู่ที่ไหน จะศึกษาได้จากวิธีการใด

- ก. การรวบรวมข้อมูล
- ข. การสังเคราะห์ข้อมูล
- ค. การวิเคราะห์และตีความข้อมูล
- ง. การใช้วิธีการทางประวัติศาสตร์

300.ถ้าจะต้องตีความจากหลักฐานทางประวัติศาสตร์ ข้อใดคือสิ่งที่นักประวัติศาสตร์ยึดถือเป็นแนวปฏิบัติ

- ก. ตีความอย่างกว้างขวาง
- ข. ตีความตามแนวคิดของตนเอง
- ค. ตีความตามหลักฐานเท่าที่ค้นพบ
- ง. ตีความอย่างยุติธรรมและเป็นกลาง

เฉลยแบบฝึกหัด
รวมวิชา ระดับชั้นประถมศึกษาปีที่ 6

ข้อ		ข้อ		ข้อ		ข้อ		ข้อ	
1	ก	21	ข	41	ง	61	ง	81	ก
2	ง	22	ง	42	ค	62	ก	82	ง
3	ง	23	ค	43	ก	63	ค	83	ก
4	ค	24	ค	44	ค	64	ค	84	ข
5	ข	25	ข	45	ค	65	ง	85	ง
6	ก	26	ข	46	ข	66	ข	86	ง
7	ง	27	ง	47	ก	67	ก	87	ข
8	ง	28	ก	48	ข	68	ค	88	ค
9	ค	29	ง	49	ค	69	ง	89	ข
10	ก	30	ง	50	ง	70	ง	90	ง
11	ค	31	ก	51	ข	71	ก	91	ค
12	ก	32	ข	52	ข	72	ก	92	ก
13	ค	33	ค	53	ก	73	ค	93	ง
14	ง	34	ค	54	ข	74	ข	94	ข
15	ง	35	ก	55	ข	75	ค	95	ก
16	ค	36	ก	56	ก	76	ก	96	ค
17	ข	37	ข	57	ค	77	ง	97	ค
18	ค	38	ค	58	ก	78	ง	98	ข
19	ง	39	ข	59	ค	79	ข	99	ก
20	ข	40	ค	60	ง	80	ง	100	ก

เฉลยแบบฝึกหัด
รวมวิชา ระดับชั้นประถมศึกษาปีที่ 6

ข้อ		ข้อ		ข้อ		ข้อ		ข้อ	
101	ง	121	ข	141	ค	161	ข	181	c
102	ก	122	ข	142	ง	162	ข	182	c
103	ง	123	ง	143	ค	163	ค	183	a
104	ก	124	ข	144	ง	164	ง	184	a
105	ง	125	ง	145	ค	165	ก	185	a
106	ข	126	ข	146	ค	166	ข	186	b
107	ก	127	ค	147	ค	167	ค	187	b
108	ง	128	ค	148	ข	168	ก	188	c
109	ก	129	ง	149	ข	169	ค	189	d
110	ค	130	ก	150	ง	170	ค	190	a
111	ค	131	ง	151	ค	171	c	191	b
112	ก	132	ข	152	ข	172	d	192	a
113	ข	133	ง	153	ง	173	a	193	c
114	ง	134	ค	154	ก	174	c	194	b
115	ค	135	ข	155	ก	175	b	195	d
116	ค	136	ก	156	ก	176	d	196	a
117	ง	137	ข	157	ง	177	c	197	b
118	ก	138	ค	158	ก	178	b	198	a
119	ก	139	ค	159	ค	179	a	199	c
120	ค	140	ก	160	ค	180	b	200	b

เฉลยแบบฝึกหัด
รวมวิชา ระดับชั้นประถมศึกษาปีที่ 6

ข้อ		ข้อ		ข้อ		ข้อ		ข้อ	
201	c	221	d	241	c	261	ข	281	ง
202	b	222	a	242	d	262	ก	282	ก
203	a	223	b	243	a	263	ง	283	ข
204	c	224	c	244	d	264	ง	284	ค
205	b	225	a	245	a	265	ง	285	ง
206	d	226	a	246	b	266	ง	286	ง
207	b	227	d	247	d	267	ข	287	ข
208	b	228	d	248	b	268	ง	288	ค
209	d	229	b	249	c	269	ข	289	ก
210	c	230	c	250	a	270	ก	290	ข
211	d	231	c	251	ค	271	ข	291	ค
212	c	232	a	252	ค	272	ง	292	ก
213	a	233	b	253	ข	273	ค	293	ง
214	b	234	d	254	ข	274	ข	294	ก
215	a	235	c	255	ข	275	ค	295	ค
216	b	236	c	256	ค	276	ค	296	ค
217	b	237	b	257	ข	277	ก	297	ก
218	b	238	b	258	ค	278	ก	298	ง
219	a	239	d	259	ค	279	ค	299	ง
220	b	240	d	260	ข	280	ข	300	ง